



Nome		<i>Note del candidato</i>
Cognome		
Matricola		
<i>Per sostenere l'orale è necessario iscriversi in rete</i>		

Es. 1

Un vano stagno presenta una apertura rettangolare di base L ed altezza $2R$, chiusa a tenuta da un cilindro a base circolare di raggio R . Tale cilindro è bagnato per metà da olio (di peso specifico γ_o) e per metà da acqua. Sull'olio si trova aria, mantenuta a pressione relativa costante pari a p_0 . Si richiede di determinare la risultante delle azioni idrostatiche sul cilindro: specificare modulo, direzione, verso, retta di applicazione.

Dati numerici:

$$L = 1.25 \text{ m}; \quad R = 0.75 \text{ m}; \quad \gamma_o = 8400 \text{ N/m}^3; \quad p_0 = 12 \text{ kPa}$$

Es. 2

Una condotta in pressione di diametro D è alimentata da una portata costante. Su tale condotta è montato un pezzo speciale, che presenta due ugelli verticali ben sagomati, di diametro terminale rispettivamente d_1 e d_2 , che emettono getti liberi. Il primo di questi sale fino ad una quota nota c , al di sopra della sezione contratta, a sua volta situata ad una distanza b dall'asse della condotta. Il secondo getto è invece diretto verso il basso; il bocchello si trova ad una distanza f dall'asse della condotta. Il volume del pezzo speciale è pari a V_p . Nell'ipotesi di comportamento ideale del fluido, si richiede di determinare:

- La ripartizione delle portate liquide (condotta, ugello 1, ugello 2)
- Il diametro del getto emesso verso il basso, ad una distanza l dalla sezione contratta.
- La spinta dinamica sul pezzo flangiato.

Dati numerici:

$$D = 125 \text{ mm}; \quad d_1 = 35 \text{ mm}; \quad d_2 = 60 \text{ mm}; \\ c = 4 \text{ m}; \quad b = 200 \text{ mm}; \quad f = 600 \text{ mm}; \quad l = 2 \text{ m}; \quad V_p = 10 \text{ l}$$

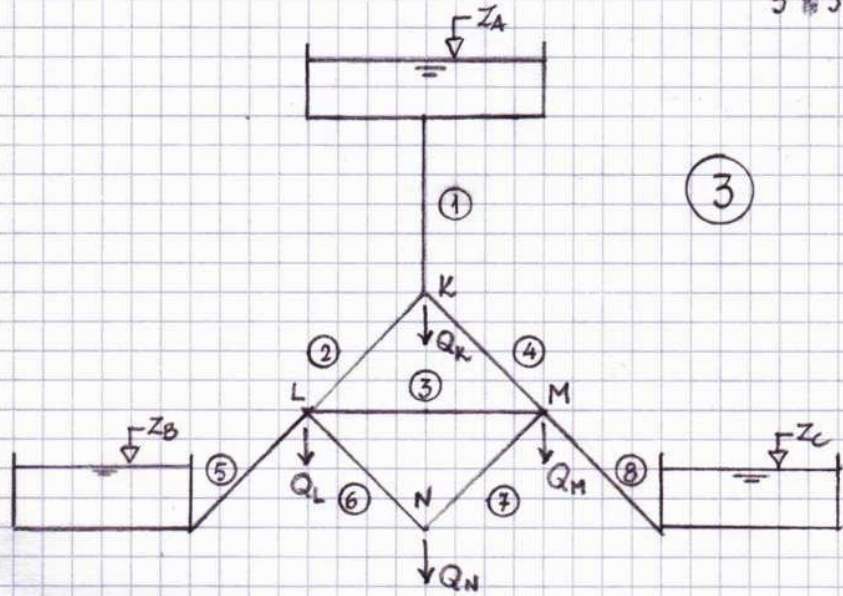
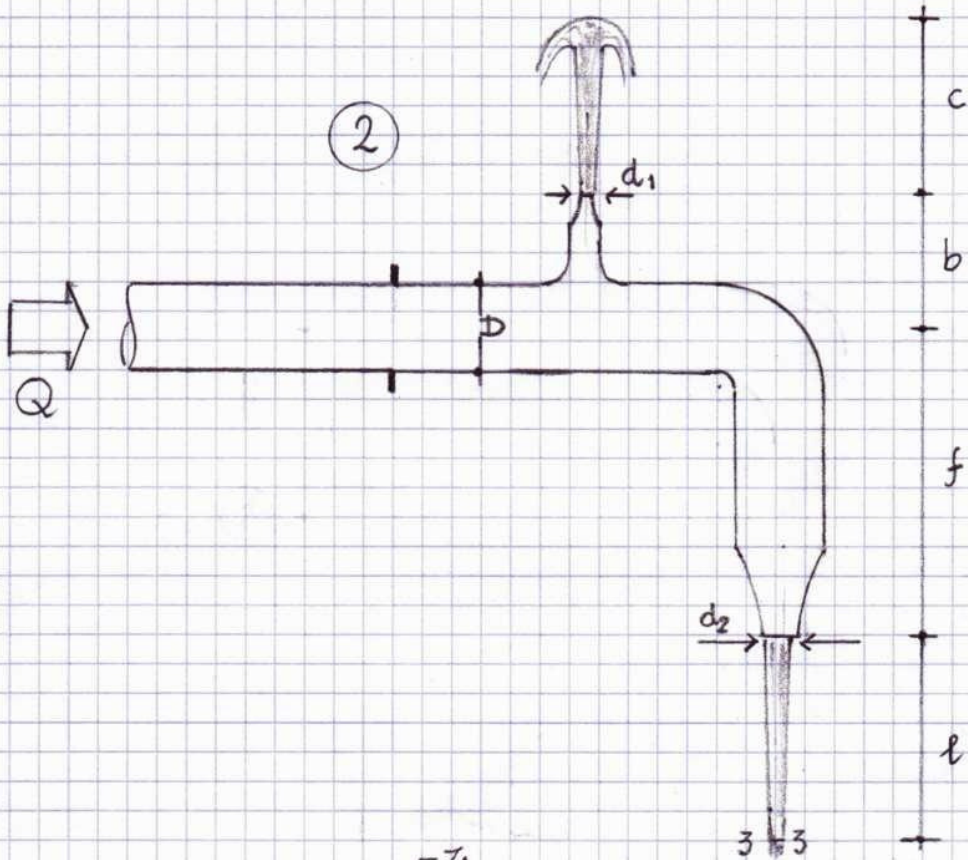
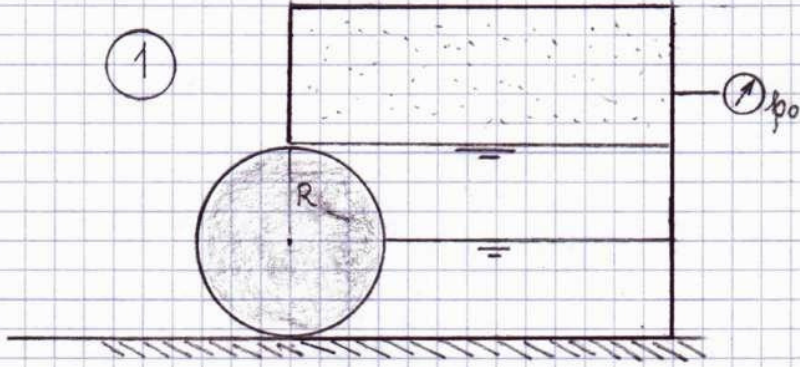
Es. 3

Una rete è costituita da un serbatoio di alimentazione (la cui superficie libera si trova alla quota nota z_A), due serbatoi di recapito (le cui superfici libere si trovano alla quota $z_B = z_C$), otto rami, che hanno caratteristiche note (L_k , D_k , ε_k , $k=1,2, \dots, 8$), quattro nodi (K, L, M, N), che erogano portate note (Q_K , $Q_L=Q_M$, Q_N). Nelle ipotesi semplificative di moto assolutamente turbolento di parete scabra ovunque e di rete di lunghe condotte, calcolare le portate in tutti i rami della rete ed il carico nel nodo N.

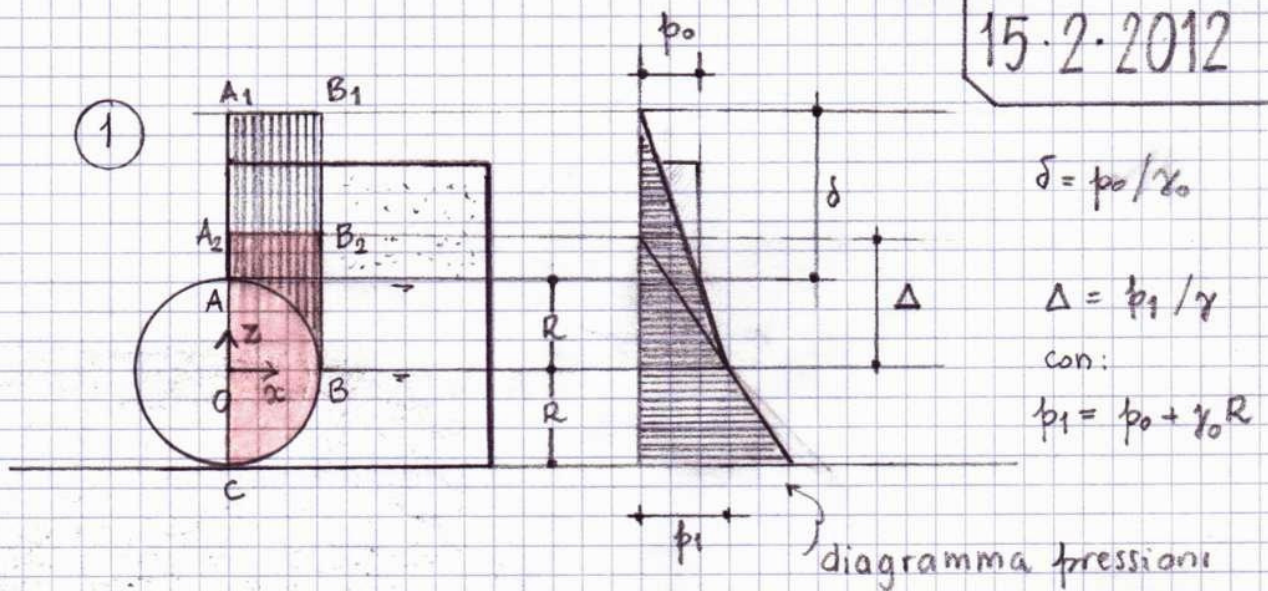
Dati numerici:

$$z_A = 750 \text{ m}; \quad z_B = z_C = 500 \text{ m}; \quad \varepsilon_k = 0.35 \text{ mm}, \forall k = 1, 2, \dots, 8; \\ L_{1,2,\dots,8} = (6 \quad 4 \quad 5.7 \quad 4 \quad 4 \quad 4 \quad 4 \quad 4) \text{ km}; \\ D_{1,2,\dots,8} = (150 \quad 125 \quad 80 \quad 125 \quad 100 \quad 100 \quad 100 \quad 100) \text{ mm}; \\ Q_K = 6 \text{ l/s}; \quad Q_L = Q_M = 5 \text{ l/s}; \quad Q_N = 8 \text{ l/s}$$

15.2.2012



15.2.2012



$$\delta = p_0 / \gamma_0$$

$$\Delta = p_1 / \gamma$$

con:

$$p_1 = p_0 + \gamma_0 R$$

$$\delta = 1.43 \text{ m} ; p_1 = 18.3 \text{ kPa} ; \Delta = 1.87 \text{ m}$$

$$(\leftarrow) F_{ABx} = \gamma_0 \left(\delta + \frac{R}{2} \right) (LR) = 14.2 \text{ kN}$$

$$(\downarrow) F_{ABz} = \gamma_0 L \left(R\delta + R^2 - \frac{\pi R^2}{4} \right) = 12.5 \text{ kN}$$

area quadrilatero curvilineo ABB_1A_1
(tratteggiato)

$$(\leftarrow) F_{BCx} = \gamma \left(\Delta + \frac{R}{2} \right) (LR) = 20.6 \text{ kN}$$


$$(\uparrow) F_{BCz} = \gamma L \left(R\Delta + \frac{\pi R^2}{4} \right) = 22.6 \text{ kN}$$

area quadrilatero curvilineo CBB_2A_2
(colorato)

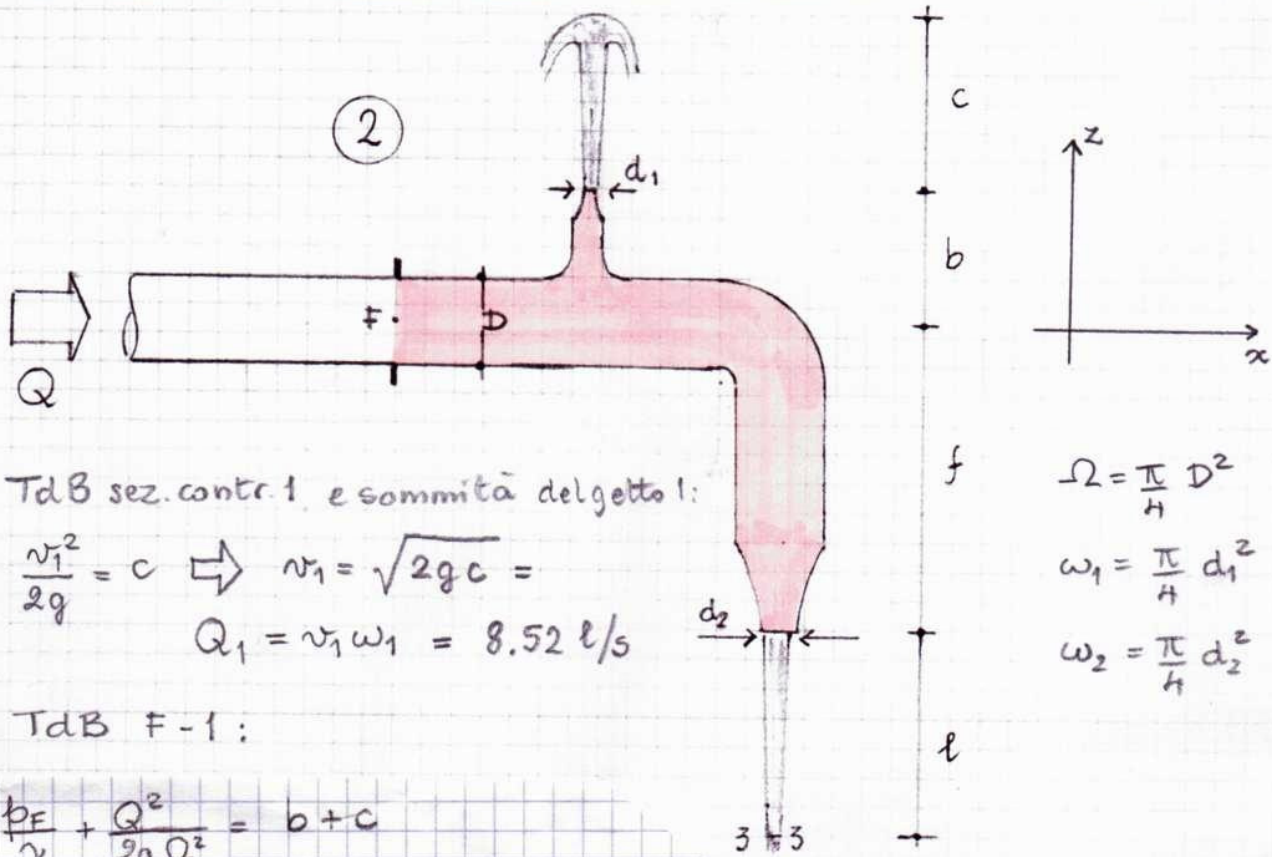
$$(\leftarrow) F_x = 34.8 \text{ kN}$$

$$(\uparrow) F_z = 10.1 \text{ kN}$$

$$F = 36.2 \text{ kN}$$



La risultante passa per O, e giace nel piano medio.



TdB sez. contr. 1 e sommità del getto 1:

$$\frac{v_1^2}{2g} = c \Rightarrow v_1 = \sqrt{2gc} =$$

$$Q_1 = v_1 \omega_1 = 8.52 \text{ l/s}$$

$$\Omega = \frac{\pi}{4} D^2$$

$$\omega_1 = \frac{\pi}{4} d_1^2$$

$$\omega_2 = \frac{\pi}{4} d_2^2$$

TdB F-1:

$$\frac{p_F}{\gamma} + \frac{Q^2}{2g\Omega^2} = b+c$$

TdB F-2

$$\frac{p_F}{\gamma} + \frac{Q^2}{2g\Omega^2} = -f + \frac{v_2^2}{2g}$$



$$\frac{v_2^2}{2g} = b+c+f$$

$$v_2 = \sqrt{2g(b+c+f)}$$

$$Q_2 = v_2 \omega_2 = 27.43 \text{ l/s}$$

Equazione globale di continuità : $Q = Q_1 + Q_2 = 35.95 \text{ l/s}$

Dal TdB tra la sez. contr. 2 e la sez. 3 :

$$l + \frac{Q_2^2}{2g\omega_2^2} = \frac{Q_2^2}{2g\omega_3^2} \Rightarrow \omega_3 = \frac{Q_2}{\sqrt{\frac{Q_2^2}{\omega_3^2} + 2gl}} \Rightarrow d_3 = \sqrt{\frac{4\omega_3}{\pi}} = 55 \text{ mm}$$

TdB tra la sez. della flangia e la sez. contr. 1 :

$$\frac{p_F}{\gamma} + \frac{Q^2}{2g\Omega^2} = b+c \Rightarrow p_F = \gamma(b+c) - \frac{1}{2} \rho \frac{Q^2}{\Omega^2} = 36.9 \text{ kPa}$$

Bilancio QdM (volume a valle della flangia) [\bar{F}_f sul fluido \bar{F}_p sul pezzo]

$$x) \quad \Pi_x = M_{ux} - M_{ex} \Rightarrow F_{fx} + p_F \Omega = -\rho \frac{Q^2}{\Omega}$$

$$F_{px} = -F_{fx} = p_F \Omega + \rho \frac{Q^2}{\Omega} = 558 \text{ N}$$

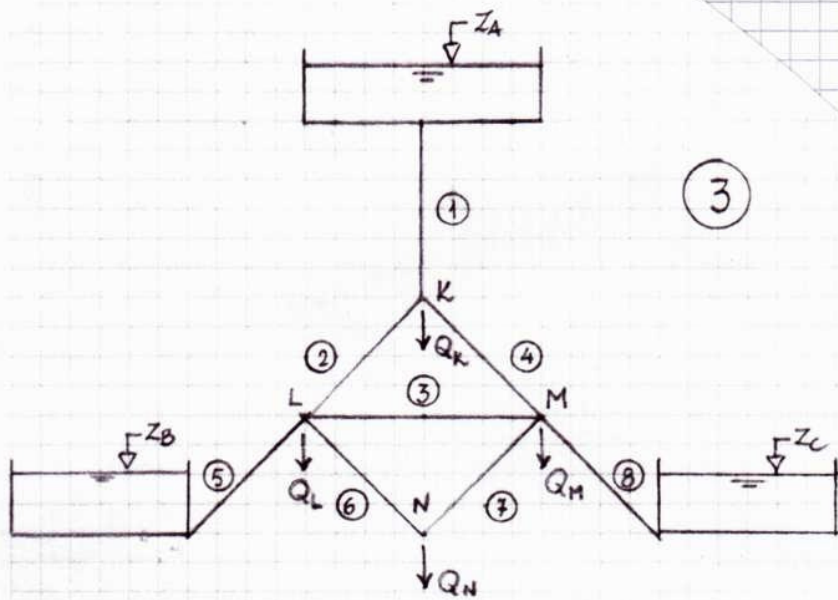
$$z) \quad G_z + \Pi_z = M_{uz} - M_{ez} \Rightarrow F_{fz} - \gamma V_p = \rho \frac{Q_1^2}{\omega_1} - \rho \frac{Q_2^2}{\omega_2}$$

$$F_{pz} = -F_{fz} = \rho \frac{Q_2^2}{\omega_2} - \rho \frac{Q_1^2}{\omega_1} - \gamma V_p = 92.6 \text{ N}$$

$$F_p = 566 \text{ N}$$

$$\vartheta = 9^\circ.42$$





(3)

$$\lambda_1 = 0.0244$$

$$\lambda_2 = \lambda_4 = 0.0256$$

$$\lambda_5 = \lambda_6 = \lambda_7 = \lambda_8 = 0.0273$$

$$r_1 = 0.159 \cdot 10^6 \frac{\text{s}^2}{\text{m}^5}$$

$$r_2 = r_4 = 0.278 \cdot 10^6 \frac{\text{s}^2}{\text{m}^5}$$

$$r_5 = r_6 = r_7 = r_8 = 0.903 \cdot 10^6 \frac{\text{s}^2}{\text{m}^5}$$

$Q_3 = 0$; $Q_4 = Q_2$; $Q_7 = Q_6$; $Q_8 = Q_5$ per simmetria

$$\begin{cases} Q_1 = 2Q_2 + Q_K \\ Q_2 = Q_5 + Q_6 + Q_L \\ 2Q_6 = Q_N \\ Z_A - Z_B = r_1 Q_1^2 + r_2 Q_2^2 + r_5 Q_5^2 \end{cases} \rightarrow \begin{cases} Q_1 = 2Q_5 + Q_N + 2Q_2 + Q_K \\ Q_2 = Q_5 + \underbrace{Q_N/2 + Q_L}_{Q_{NL}} \\ Q_6 = Q_N/2 \\ Q_6 = Q_7 = H \ell / s \end{cases}$$

$$Z_A - Z_B = r_1 (2Q_5 + Q_{NK})^2 + r_2 (Q_5 + Q_{NL})^2 + r_5 Q_5^2$$

$$Z_A - Z_B = (4r_1 + r_2 + r_5) Q_5^2 + 2(2r_1 Q_{NK} + r_2 Q_{NL}) Q_5 + [r_1 Q_{NK}^2 + r_2 Q_{NL}^2]$$

$$A = 4r_1 + r_2 + r_5$$

$$M = 2r_1 Q_{NK} + r_2 Q_{NL}$$

$$C = r_1 Q_{NK}^2 + r_2 Q_{NL}^2 - (Z_A - Z_B)$$

$$A Q_5^2 + 2M Q_5 + C = 0$$

$$Q_5 = \frac{-M + \sqrt{M^2 - AC}}{A} = 4.70 \ell/s = Q_8$$

$$Q_2 = Q_5 + Q_{NL} = 13.70 \ell/s = Q_4$$

$$Q_1 = 2Q_5 + Q_{NK} = 33.41 \ell/s$$

$$h_L = Z_B + r_5 Q_5^2 = 520.0 \text{ m}$$

$$h_N = h_L - r_6 Q_6^2 = 505.5 \text{ m}$$